



COLEGIO :GABRIELA MISTRAL
ASIGNATURA : HISTORIA
UNIDAD : ¿CÓMO NOS UBICAMOS EN EL PLANETA?
DOCENTE : MARIELA SÁEZ YÁÑEZ
CURSO : TERCER AÑO

GUÍA NÚMERO 4

OBJETIVO ESPECÍFICO

- Distinguir líneas de referencia de la Tierra, hemisferios, polos, continentes y océanos en mapas.

INSTRUCCIONES:

1. Escribe con lápiz grafito.
2. Responde la guía en un lugar habilitado de tu casa para trabajar .
3. Responde en tu texto de Historia las páginas **36,37,38,39 Y 42**
4. Con ayuda de tu familia realiza la actividad de la página 39 (Rompecabezas del planisferio)
5. Como material de apoyo observa el video explicativo en :

<https://www.youtube.com/watch?v=2wKsgM2QZfg>

<https://www.youtube.com/watch?v=aQpPVDcygj4>



¡Hola , aprenderás en esta guía: Las líneas imaginarias, Continentes y Océanos de nuestro planeta y ahora a practicar!

Así como utilizamos cuadrículas y **líneas de referencia** para ubicarnos en el plano o mapa, para orientarnos en el espacio real necesitamos **referencias** que nos indiquen dónde estamos. Es por eso que los **cartógrafos** inventaron las **líneas imaginarias** que aparecen en casi todos los mapas, las cuales se asemejan a las líneas de la cuadrícula que estudiaste en la lección anterior.

Algunas de las líneas imaginarias más importantes de los mapas son:

La línea del ecuador, **los trópicos** y los **círculos polares**.

1. ANOTA EL NÚMERO EN LA LÍNEA IMAGINARIA SEGÚN CORRESPONDA. (Revisa página 36)

1. Línea del Ecuador.

2. Polo sur

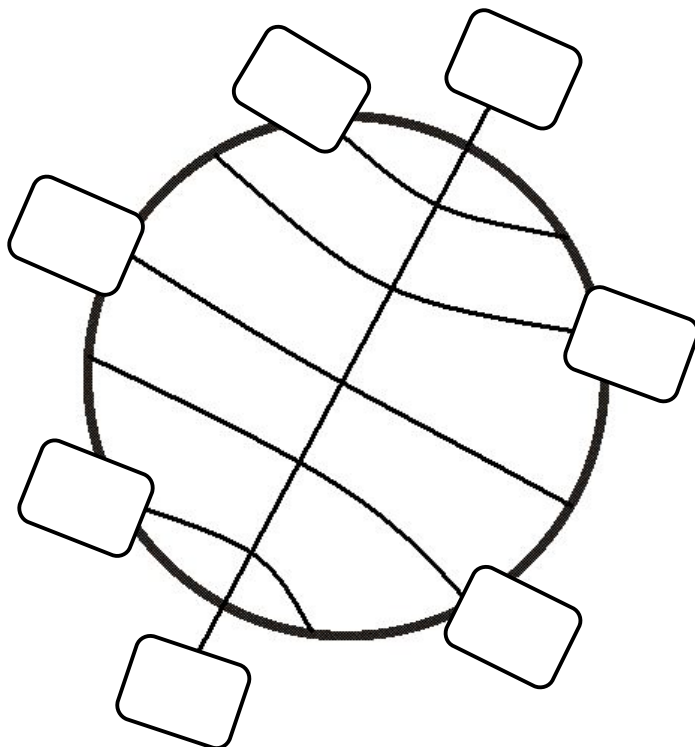
3. Trópico de Capricornio .

4. Círculo Círculo polar ártico

5. Trópico de Cáncer.

6. Polo norte.

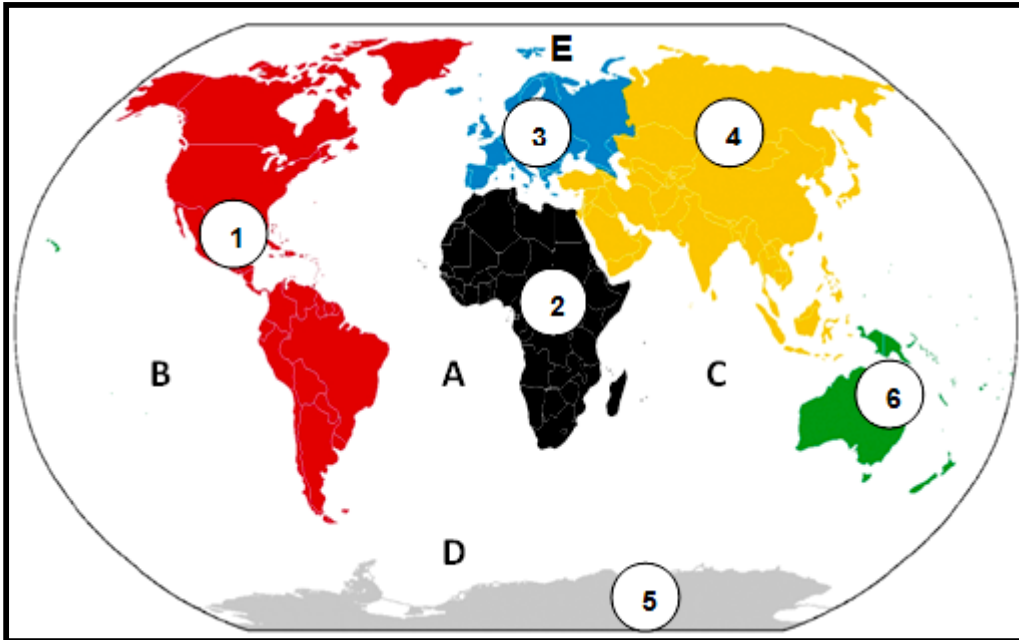
7. Círculo polar antártico.



2. OBSERVA LA IMAGEN Y ANOTA EL NOMBRE DE LOS CONTINENTES Y OCÉANOS.

a. Revisa mapa de página 37 para completar la tabla.

b. La actividad te ayudará a responder el ¿Cómo voy ?de la página 42 (pregunta número 2)






Continentes	Océanos
1	A
2	B
3	C
4	D
5	E
6	

América, Europa, África, Asia, Oceanía, Antártica.
océano Pacífico, océano Atlántico, océano Austral, océano Glacial Ártico, océano Índico.

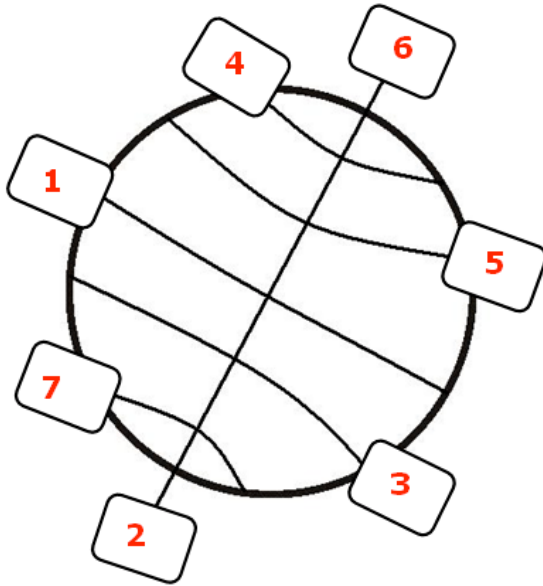
¿ CÓMO LO HICE?

Evalúa tu desempeño ,pintando el semáforo que representa tu respuesta al resolver la guía.

				
LOGRADO	MEDIANAMENTE LOGRADO	POR LOGRAR		
INDICADORES		NIVEL DE DESEMPEÑO		
		L	ML	PL
Manifiesto un estilo de trabajo ordenado y metódico.		<input type="checkbox"/>	<input type="checkbox"/>	<input type="checkbox"/>
Ubico las líneas imaginarias en el planeta.		<input type="checkbox"/>	<input type="checkbox"/>	<input type="checkbox"/>
Identifico en el planisferio los océanos y continentes.		<input type="checkbox"/>	<input type="checkbox"/>	<input type="checkbox"/>

CORRECCIÓN

1. ANOTA EL NÚMERO EN LA LÍNEA IMAGINARIA SEGÚN CORRESPONDA.



2. OBSERVA LA IMAGEN Y ANOTA EL NOMBRE DE LOS CONTINENTES Y OCÉANOS.

Continentes	Océanos
1 América	A océano Atlántico
2 África	B océano Pacífico
3 Europa	C océano Índico
4 Asia	D océano Austral
5 Antártica	E océano Glacial Ártico
6 Oceanía	